

❖ السَّنَد

_____ حديقة التجارب بالحامة في الجزائر العاصمة جنة الدنيا هي أروع الحديق و أجملها
تعكس الجمال والروعة والسحر والمعان عندما تجلس فيها ساعة ستبحث عن ساعة أخرى
وستكون مدمنا عليها لأن الحديقة ساحرة و الفن فيها لا ينقطع.

_____ هي ثالث حديقة في العالم من حيث النباتات النادرة و التي يفوق عمر بعضها مائة سنة، و
من أهم ميزاتها اعتدال مناخها و أسهمت هذه الميزة المناخية في تنوع النباتات والأشجار، كما تم تخصيص
جزء منها حديقة للحيوان فيها مئات من أصناف الحشرات و الأسماك و الحيوانات.

❖ الأسئلة● البناء الفكري:

1. هات عنوانا مناسباً للنص.
2. بم يتميز المناخ في حديقة الحامة؟
3. أخرج من السند مرادف الكلمتين التاليتين:
- القليلة = ، - أنواع =

● البناء اللغوي:

1. أصنف الكلمات التي تحتها سطر في الجدول المرافق. (الحديق - ساعة - الحديقة - ساحرة)

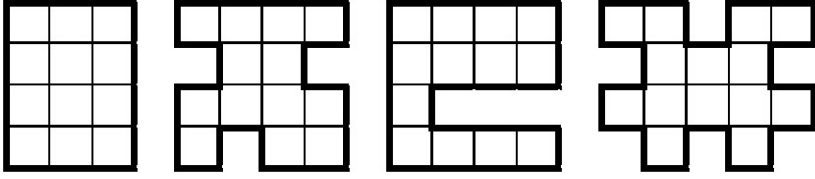
إسم " أن "	خبر " أن "	إسم مجرور	مضاف إليه

2. أصرف الاسم ((جميل)) مع الضمائر (هي - هما " مذكر " - هما " مؤنث " - أنت - أنتن)
3. لماذا كتبت الهمزة في كلمة ((جزء)) على السطر؟

● الوضعية الإدماجية:

_____ في أحد الأيام الربيعية قمت بزيارة حديقة عامة مع عائلتك، فأعجبت كثيراً
بسحرها و جمالها.

▪ في فقرة لا تتعدى (10 أسطر)، صِفْ تِلْكَ الْحَدِيقَةَ وَ الطيور وَ الفراشات
التي شاهدتها، مقدِّماً نصائح لعائلتك كي يحافظوا عليها. موظفاً كان أو إحدى
أخواتها.



A

B

C

D

الشكل	مساحته (بالمربع)	محيطه (بالخط)
A		
B		
C		
D		

التمرين الأول: إليك الأشكال المقابلة

- أحسب جيدا مساحة و محيط كل شكل.
- أرتب الأشكال من الأصغر مساحة إلى الأكبر.
- أرتب الأشكال من الأصغر محيطا إلى الأكبر.

التمرين الثاني: أكتب المواقيت بالساعة **h** و بالدقيقة **min** بهذا الشكل: (.... h min)

_____ مُنْتَصَفُ النَّهَارِ وَ رُبْعُ، _____ الثَّامِنَةُ صَبَاحًا وَ عِشْرُونَ دَقِيقَةً،
الثَّلَاثَةُ مَسَاءً إِلَّا رُبْعًا، _____ مُنْتَصَفُ اللَّيْلِ وَ النَّصْفِ.

التمرين الثالث:

إنْطَلَقَ رَجُلٌ بِسَيَّارَتِهِ مِنَ الْجَزَائِرِ الْعَاصِمَةِ عَلَى السَّاعَةِ: 7 h 25 min، فَوَصَلَ إِلَى الشَّلْفِ عَلَى السَّاعَةِ: 30 min .10 h

- ما هي المدة التي قضاها في سفره؟

التمرين الرابع:

أحسب	حاصل القسمة	باقي القسمة
حاصل و باقي قسمة 125 على 6
حاصل و باقي قسمة 209 على 10
حاصل و باقي قسمة 96 على 8

- أكمل ملء الجدول

❖ الوضعية الإدماجية:

- إشتري تاجرٌ من سوق الجُمَّلَةِ لِلْخُضْرِ الْفَوَاكِهِ مَا يَلِي:
- صُنْدُوقَ طَمَاطِيمٍ بِهِ 18 kg بِسِعْرِ 32 دِينَارًا لِلْكَيلُوغَرَامِ الْوَاحِدِ.
- صُنْدُوقَ خَسٍّ بِهِ 13 kg بِسِعْرِ 27 دِينَارًا لِلْكَيلُوغَرَامِ الْوَاحِدِ.
- صُنْدُوقَ جَزْرٍ بِهِ 20 kg بِسِعْرِ 23 دِينَارًا لِلْكَيلُوغَرَامِ الْوَاحِدِ.
- 1. ما هو وَزْنُ كُلِّ الْخُضْرِ؟
- 2. ما هو ثَمَنُ كُلِّ الْخُضْرِ؟

❖ السؤال الأول: أجب عن الأسئلة التالية

1. ماذا فعلَ يونسُ — عليه الصلّاة و السّلام — و هو في بطنِ الحوت؟

2. ما هي مُعْجِزَةُ نَبِيِّ الله صالحٍ — عليه السّلام —؟

❖ السؤال الثاني: أكمل الآية الكريمة:

قال الله تعالى " وَ قَضَى رَبُّكَ" إْحْسَاناً " "

سورة الإسراء الآية 23

❖ السؤال الثالث: أربط كل آية بسورتها

- وَ هَذَا الْبَلَدِ الْأَمِينِ ❁

- ثُمَّ رَدَدْنَاهُ أَسْفَلَ سَافِلِينَ ❁

- وَ مَا يُغْنِي عَنْهُ مَالُهُ إِذَا تَرَدَّى ❁

- إِنَّ سَعْيَكُمْ لَشَتَّى ❁

- إِلَّا الَّذِينَ ءَامَنُوا وَ عَمِلُوا الصَّالِحَاتِ ❁

سورة الليل

سورة التين

❖ السؤال الرابع: أكمل بما يناسب

- أنزلَ الله على نبيِّه موسى — عليه السّلام —، و أنزلَ على نبيِّه عيسى — عليه السّلام — أما خاتمُ أنبياءِ الله رسولنا مُحَمَّدٌ — صلى الله عليه و سلّم — فأَنْزَلَ اللهُ عَلَيْهِ الكَرِيمِ.
- صِلَةُ ذَوِي الْقُرْبَى مِنْ الْأَخْلَاقِ الَّتِي حَثَّ الْإِسْلَامُ عَلَى التَّخَلُّقِ بِهَا لِأَنَّهَا تُقَوِّي و التَّعَاوُنَ بَيْنَ الْأَقْرَابِ .
- الْإِيمَانُ بِالْكِتَابِ السَّمَاوِيِّ مَعْنَاهُ بِأَنَّ اللهَ أَنْزَلَهَا عَلَى أَنْبِيَائِهِ وَ رُسُلِهِ — عَلَيْهِمُ الصَّلَاةُ وَ السَّلَامُ —
- هُوَ دَعْوَةٌ جَمِيعِ الرُّسُلِ وَ الْأَنْبِيَاءِ — عَلَيْهِمُ السَّلَامُ —

الرقم: ○

العام الدراسي: 2011 / 2012

تاريخ الإجراء:

الاسم و اللقب:

مدرسة محمد حمراوي " 02 "

السنة: الرابعة ابتدائي

اختبار الفصل الثاني في مادة التربية

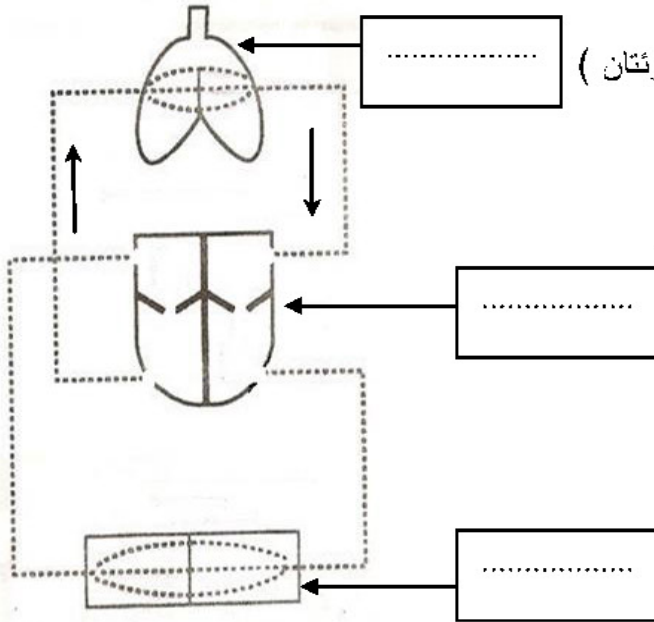
➤ السؤال الأول: أصحح هذه العبارات الخاطئة

- يدخل الهواء إلى الرئتين عن طريق القلب.....
- عند الزفير نطرح غاز ثنائي الأوكسجين.....
- التدخين يحافظ على سلامة الجهاز التنفسي.....
- يتم امتصاص الطعام في المعدة.....
- ممارسة الرياضة بعد الأكل تفيذ عملية الهضم.....
- الكلية هي الجهاز المسؤول عن دوران الدم.....

➤ السؤال الثاني: يمكننا التعرف على الجهات و الأماكن بواسطة: (ألون الخانات المناسبة)

البوصلة	الأشجار	الشمس	النافيات	النجم القطبي	الخريطة
ظل	القمر	السيارات			

➤ السؤال الثالث: إليك هذا المخطط للدورة الدموية



(1) أكتب بيانات المخطط. (القلب — الأعضاء — الرئتان)

(2) ألون بالأزرق مسار الدم المحمل بثنائي الأوكسجين.

(3) ألون بالأحمر مسار الدم المحمل بثنائي أكسيد الكربون.

الرقم: ○

العام الدراسي: 2011 / 2012

تاريخ الإجراء:

اختبار الفصل الثاني في مادة التربية

الاسم و اللقب:

مدرسة محمد حمراوي " 02 "

السنة: الرابعة ابتدائي

❖ السؤال الأول: أكمل بما يناسب

✓ يتولَّى مَكْتَبُ تَوَازِيْعَ الرِّسَائِلِ .

✓ قَاعَاتُ العِلَاجِ المُتَشَبِّهَةِ فِي الرِّيفِ أَوْ فِي أَطْرَافِ المُدُنِ، تَتَكَوَّنُ مِنْ قِسْمٍ وَاحِدٍ يَعْمَلُ فِيهِ

و

✓ يَنْتُجُ عَنِ حَوَادِثِ المُرُورِ أَضْرَارٌ تَتَمَثَّلُ فِي وَ

أَضْرَارٌ تَتَمَثَّلُ فِي

❖ السؤال الثاني: أكتب أمام كل خدمة اسم المؤسسة العمومية التي تقدمها

✓ سَحْبُ الأَمْوَالِ ←

✓ إِجْرَاءُ التَّلْقِيحِ ←

✓ وَضْعُ إِشَارَاتِ المُرُورِ ←

✓ تَسْلِيمُ الطُّرُودِ البَرِيدِيَّةِ ←

✓ تَنْظِيمُ حَرَكَةِ المُرُورِ ←

✓ إِجْرَاءُ عَمَلِيَّاتِ جِرَاحِيَّةِ ←

❖ السؤال الثالث:

- أذكر ثلاث وثائق خاصة بمكتب البريد:

1. ، 2. ، 3.

- ما واجب السائقين و الراجلين؟

_____ وَاجِبُ السَّائِقِينَ وَ الرَّاغِلِينَ أَنْ لِكَيْ تَكُونَ حَوَادِثُ المُرُورِ قَلِيلَةً.

الرقم: ○

الاسم و اللقب:

العام الدراسي: 2011 / 2012

مدرسة محمد حمراوي " 02 "

تاريخ الإجراء:

السنة: الرابعة ابتدائي

اختبار الفصل الثاني في مادة التاريخ

❖ السؤال الأول: أكمل بما يلي (- الأندلس - أهداف - الروماني - الأمازيغ - الإسلام)

- قاومَ الفُتوحاتِ الإسلاميَّةِ في بادئِ الأمرِ اعتقادًا منهم أنَّ المُسلمينَ لا
تختلفُ عن أهدافِ الاستعمارِ و البيزنطيِّ لَكنَّهُم سرعانَ ما تفهَّموا رسالةَ
..... فأعتنقوه و تحمَّلوا مهمَّةَ نشره في و الصحراءِ الإفريقيَّةِ .

❖ السؤال الثاني: أكمل بما يناسب

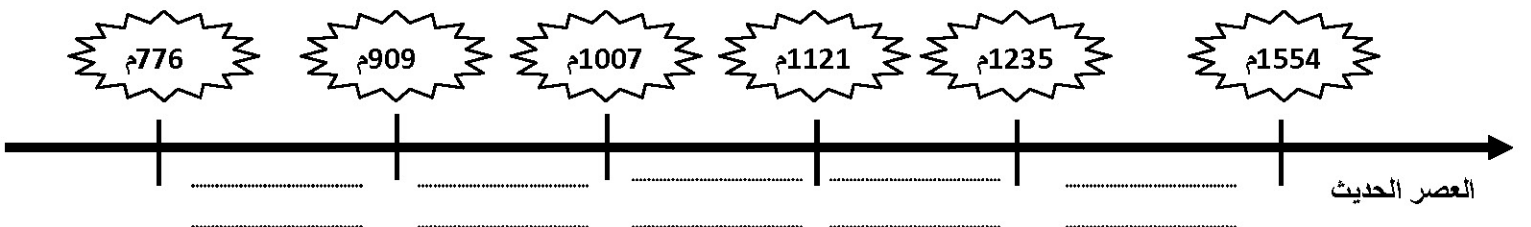
- في العصرِ الوسيطِ كانتِ الجزائرُ تُسمَّى:
- أولُ من قادَ الفُتوحاتِ الإسلاميَّةَ في الجزائرِ هو:
- القائدُ المُسلمُ الأمازيغيُّ الذي فتحَ الأندلسَ هو:

❖ السؤال الثالث: أكتبُ مؤسسَ كلِّ دولةٍ في الخانةِ المناسبةِ مِنَ الجدولِ المُرافقِ

عبيد الله المهدي - يغمراسن بن زيان - محمد بن تومرت وعبد المؤمن بن علي - حماد بن بلكين - عبد الرحمن بن رستم

الدولة الزيانية	الدولة الحمادية	الدولة الفاطمية	الدولة الموحدية	الدولة الرستمية
.....
.....

❖ السؤال الرابع: أرَتبْ الدولَ التي حكمتَ الجزائرَ في العصرِ الوسيطِ على السُّلمِ الزمَنيِّ المُرافقِ



الرقم: ○

العام الدراسي: 2011 / 2012

تاريخ الإجراء:

الاسم و اللقب:

مدرسة محمد حمراوي " 02 "

السنة: الرابعة ابتدائي

اختبار الفصل الثاني في مادة الجغرافيا

➤ السؤال الأول: أصنف المواد التالية في الجدول المرافق:

((_____ الفحم الحجري _____ زيت الزيتون _____ السيارات _____ البرنتقال _____ الزنك _____ أشجار الفلين))

مواد أولية صناعية و زراعية محولة	مواد أولية زراعية	مواد أولية صناعية و طاقوية
.....
.....

➤ السؤال الثاني: أربط كل مادة مصنعة بمادتها الأولية

النفط	▪ الدراجة
الحلفاء	▪ باب القسم
الحديد	▪ البنزين
النحاس	▪ الورق
الخشب	▪ أسلاك الهاتف

➤ السؤال الثالث: أكمل بما يناسب

- الزراعة التقليدية: هي الزراعة التي تعتمد على وسائل مثل:، و

و تستخدم يدًا عاملة لكن إنتاجها

- الزراعة الحديثة: هي الزراعة التي تعتمد خاصة على الآلات و الطرق مثل:

،، و مما يسمح بزيادة