

اختبار مادة العربية الفصل الأول سنة 4 ابتدائي

1

النموذج رقم:

الإسم :
اللقب :

التمرين الأول: هات لكل فعل فاعلا مناسباً واضبطه بالشكل:

- ◀ سَخَّر الأنعام للناس.
- ◀ أَظْلَم فسكنت
- ◀ جَدِل بنجاح ابنه.
- ◀ قَذَف الكرة بعيداً.

التمرين الثاني: ضع سطرًا تحت المفعول به:

- ◀ سمعت العصفورَ يغرُدُ على الشجرة.
- ◀ شاهدتُ الشمسَ تشرقُ من وراء الجبل.
- ◀ كافأ المعلم التلميذ المجتهدَ.

التمرين الثالث: أكمل الجمل الآتية بأفعال مضارعة:

- (1) الحجاجُ بالكعبة.
- (2) هراً قطعاً لحمٍ.
- (3) الزهور في فصل الربيع.
- (4) الفلاح أرضه في الخريف.

التمرين الرابع:

أعرب الجملة التالية:
عالج الطبيب المريض.

اختبار مادة العربية الفصل الأول سنة 4 ابتدائي

2

النموذج رقم:

الإسم :
اللقب :

التمرين الأول: اربط بين الفعل والفاعل الذي يناسبه:

الرعء	نزل
المطر	قطف
القطار	غربت
الشمس	وصل

التمرين الثاني: كون جملا بالمفردات التالية:
مسح - انتصر - نجح - كافح - نظف - جلس - قرأ.

التمرين الثالث: أربط بين كل كلمة وما يناسبها:

أخفق	ثعلب
انتصر	رسب
الكثير	واسع
شاسع	الوفير

التمرين الرابع: صرف الفعل فتح في الماضي مع ضمائر الغائب

التمرين الخامس: أعرب ما يلي. وقف التلميذ

اختبار مادة العربية الفصل الأول سنة 4 ابتدائي

3

النموذج رقم:

الإسم :
اللقب :

التمرين الأول: أكمل الجمل التالية بمفعول به مناسب :

- ◀ قَطَفَ الطفلُ.....
- ◀ فهم التلميذُ.....
- ◀ شكر المعلمُ.....
- ◀ سجَّلَ اللاعبُ.....
- ◀ قرأ الرَّجُلُ.....

التمرين الثاني: ضع سطرا تحت الجملة الفعلية :

- ✍ شَرِبَ المريضَ الدواءَ.
- ✍ الشاحنة واسعة.
- ✍ حزنَ الابنَ لموت أمه.
- ✍ امتحان صعبٌ.
- ✍ الطريق معبَّدٌ.
- ✍ وزع المديرُ الجوائز على الفائزين.

التمرين الثالث: أدخل الضمير المناسب على الأفعال التالية :

- ◀تلعبين بالحبَل .
- ◀يراجع دروسه .
- ◀تدافعون عن وطنكم .
- ◀غَسَلْتِ الأواني .
- ◀نزور عمتنا في كل مرة .
- ◀يحصدون القمح .

التمرين الرابع: أشكل الجمل الآتية ثم أعربها : - فحص الطبيب المريض .

- يشرح المعلمَ الدرس .

التمرين الخامس: صرف الفعل " نجح " في المضارع مع ضمائر المخاطب

اختبار مادة العربية الفصل الأول سنة 4 ابتدائي

4

النموذج رقم:

الإسم :
اللقب :

التمرين الأول: اجعل كل اسم من الأسماء الآتية مبتدأ وضع له خبرا مناسباً :

المدينة ، الولد ، المطر ، الشمس ، البحر ، السماء

التمرين الثاني: أربط بين كل كلمتين متشابهتين في المعنى :

تروى
أرسلت
ذهبت بعيداً
عطوفة
جماعة
حامت

بعثت
تسقى
لطيفة
هجرت
دارت
فئة

التمرين الثالث: ضع لكل موصوف صفة مناسبة واضبطها بالشكل :

- ← كون البخار سحابة
- ← ارتوت الأزهار
- ← أصدر القاضي حكماً
- ← انتعش الزرع
- ← شكر المعلم التلميذ
- ← تسكن خديجة في قرية

التمرين الرابع: أعرب الجملة الآتية : باع التاجر سلعة فاسدة .

اختبار مادة الرياضيات الفصل الأول سنة 4 ابتدائي

1

النموذج رقم:

الإسم :
اللقب :

التمرين الاول :

اشترى تاجر كمية من الطماطم وزنها 270kg ثم وضعها في صناديق يزن الصندوق الواحد 15kg .

◀ ما هو عدد الصناديق ؟

باع التاجر الطماطم بثمان 30 دج للكيلوغرام الواحد.

◀ ماهو ثمن بيع الطماطم ؟

التمرين الثاني :

أكمل ما يلي :

$$1900\text{cm}=\dots\dots\dots\text{m} \quad , \quad 2300\text{mm}=\dots\dots\dots\text{dm}$$

$$4\text{kg} + 20\text{kg}=\dots\dots\dots\text{g} \quad , \quad 5\text{kg}=\dots\dots\dots\text{g}$$

التمرين الثالث :

أحسب عموديا العمليات التالية :

$$135 - 87,25=\dots\dots\dots \quad , \quad 58,40 - 47,91=\dots\dots\dots$$

$$73,9 - 3,9=\dots\dots\dots \quad , \quad 436,5 - 8,20=\dots\dots\dots$$

التمرين الرابع :

بمناسبة عيد الفطر المبارك اشترى الأب لابنه محمد سروالا ب:850DA

وقميصا ب:60,50DA وجوربا ب:65,50DA .

◀ أحسب المبلغ الذي دفعه الأب لصاحب المحل ؟

اختبار مادة الرياضيات الفصل الأول سنة 4 ابتدائي

2

النموذج رقم:

الإسم :
اللقب :

التمرين الأول : أنقل وأنجز كل عملية من العمليات التالية :

$\begin{array}{r} 208 \\ \times 7 \\ \hline = \dots\dots\dots \end{array}$	$\begin{array}{r} 154 \\ \times 8 \\ \hline = \dots\dots\dots \end{array}$	$\begin{array}{r} 75 \\ \times 24 \\ \hline = \dots\dots\dots \end{array}$	$\begin{array}{r} 48 \\ \times 23 \\ \hline = \dots\dots\dots \end{array}$
--	--	--	--

التمرين الثاني :

اشترى علي محفظة ومئزرا بـ: 1250 دج حيث ثمن المحفظة هو 650 دج
أحسب ثمن المئزر .

التمرين الثالث :

لفلاح أرض مستطيلة الشكل طولها 85م وعرضها نصف طولها
أحسب مساحتها

التمرين الرابع :

اشترى الأب لابنه ثلاثة كتب ثمن الكتاب الأول 240 دينار والثاني يزيد
ثمنه عن الأول بـ: 30 دينار و ثمن الكتاب الثالث ينقص عن الأول
بـ: 80 دينار. إذا علمت أنه بقي معه 30 دينار.
أحسب المبلغ الذي كان بحوزته

اختبار مادة الرياضيات الفصل الأول سنة 4 ابتدائي

3

النموذج رقم:

الإسم :
اللقب :

التمرين الأول :

أنجز العمليات التالية عموديا :

$$13+315+170=.....$$

$$135+27+1730=.....$$

$$274+30+475=.....$$

التمرين الثاني : ضع رقما مناسباً أمام النقط :

÷2	70	44	7	9	X2
	60	28	

التمرين الثالث :

ضع العلامة المناسبة مكان النقط : (< ، =)

$$9+11.....32-12 , 6+15.....3 \times 7$$

$$7+6.....7 \times 6 , 20-5.....4 \times 6$$

$$6 \times 3.....11+8 , 8+20.....7+13$$

الوضعية الإدماجية :

يشغل عامل 7 ساعات في اليوم ويعمل لمدة 5 أيام ، ويتقاضى 18 دينار في كل ساعة

◀ ما هي أجرته خلال 30 يوم ؟

اختبار مادة الرياضيات الفصل الأول سنة 4 ابتدائي

4

النموذج رقم:

الإسم :
اللقب :

التمرين الأول :

ضع العلامة المناسبة مكان النقط (> ، < ، =)

410m.....140dm	،	130dm.....1,3m
1000mm.....10m	،	5300mm.....53cm
540cl.....5400ml	،	55km.....600hm

التمرين الثاني :

المسافة بين محمد والمسجد هي 150 متر.

◀ ما هي المسافة التي يقطعها محمد لأداء الصلوات الخمس ؟

التمرين الثالث :

عمر جدتي أكبر من عمر أمي بـ 20 سنة .

إذا كان عمر أمي 30 سنة فما هو عمر جدتي ؟

الوضعية الإدماجية :

◀ أرسم مستقيما (F) عموديا على المستقيمين (K) (G) في A و B

أرسم مستقيما آخر (M) عموديا على المستقيمين (K) و (G) في C و D

وموازيا للمستقيم (F) بحيث $AD \neq AB$.

◀ ما هو الشكل الذي تحصلت عليه .

اختبار مادة الرياضيات الفصل الأول سنة 4 ابتدائي

5

النموذج رقم:

الإسم :
اللقب :

التمرين الأول :

أكمل ما يلي :

$$5+60+300+1000= \dots\dots\dots$$

$$8+30+600+7000= \dots\dots\dots$$

$$2+30+900+3000= \dots\dots\dots$$

التمرين الثاني :

في حصة رياض 20 قطعة نقدية أراد شراء كرة بـ : 500 دينار .
أذكر احتمالا لقيمة القطع النقدية لتمكن رياض من شراء الكرة .

التمرين الثالث :

تملك نسيمة 3 قطع ذات قيمة 20 دينار وقطعتين ذات 10 دينار و 4 قطع ذات 5 دينار .

هل يمكن لنسيمة شراء كتاب بـ 100 دينار ؟

الوضعية الإدماجية :

فلاح حقل مستطيل الشكل طوله 97 مترا وعرضه 54 مترا أحاطه بسياج وترك بابا 2 متر .

ما هي كلفة السياج إذا كان سعر المتر بـ : 42 دينار واستعمل 36

عمودا حيث سعر العمود بـ 120 دينار .

اختبار مادة الرياضيات الفصل الأول سنة 4 ابتدائي

6

النموذج رقم:

الإسم :
اللقب :

التمرين الأول :

حول ما يلي إلى الغرام :

$$3\text{kg} = \dots\dots\dots\text{g} \quad , \quad 6\text{kg } 30\text{g} = \dots\dots\dots\text{g}$$

$$2\text{kg } 500\text{g} = \dots\dots\dots\text{g} \quad , \quad 33\text{kg} = \dots\dots\dots\text{g}$$

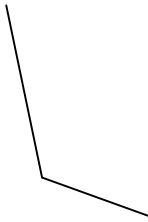
$$1\text{kg } 200\text{g} = \dots\dots\dots\text{g} \quad , \quad 4\text{kg } 400\text{g} = \dots\dots\dots\text{g}$$

التمرين الثاني :

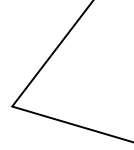
قارن بين الزوايا الأوسع التالية :



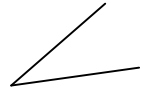
شكل (1)



شكل (2)



شكل (3)



شكل (4)

التمرين الثالث :

عند الخبز 7 رفوف للخبز ، كل رف يحمل 15 خبزة .
كم من خبزة يجب أن يخبزها الخباز ليملأ جميع الرفوف ؟

الوضعية الإدماجية :

يدفع رب أسرة 2700 دينار فاتورة الكهرباء و13700 مصاريف متنوعة و2350 دينار ثمن أدوات مدرسية لأبنائه ويوفر مبلغ 1360 دينار .
ما هو مرتب رب هذه الأسرة ؟

اختبار مادة ت اسلامية الفصل الأول سنة 4 ابتدائي

1

النموذج رقم:

الإسم :
اللقب :

السؤال الأول :

أكمل الآية التالية :

قال تعالى { يا أيها النَّاسُ اعْبُدُوا و..... من..... }

السؤال الثاني :

صل بسهم بين الجمل وما يشرح معناها :

آداب المعاملة	قواعد السلوك
ضعيف البصر	المعروف
الخير	الشر
المنكر	الرجل أضاع الطريق
الرجل أضاع الطريق	ردى البصر

السؤال الثالث :

صنف السلوك الحسن والسلوك القبيح :

الحسد - اللعب في الطرق - التحية - الإسراف والتبذير - الإحسان -
رمي الأوساخ في الطريق - قراءة القرآن - الصدق - التسامح .

السلوك القبيح	السلوك الحسن
.....
.....
.....

اختبار مادة ت اسلامية الفصل الأول سنة 4 ابتدائي

2

النموذج رقم:

الإسم :
اللقب :

التمرين الأول :

ضع خطاً تحت الصفة التي يتصف بها عباد الرحمن :
الوفاء بالعهد – قول الصدق – التكبر – مساعدة الضعفاء – كثرة الصلاة
– حسن الخلق – الكذب – التواضع – عدم إلقاء التحية .

التمرين الثاني :

ضع صحيح أو خطأ أمام كل جملة تدل على الإحسان للوالدين :

- ➡ الاجتهاد في الدراسة : ←
➡ أخرج من المنزل دون أن أستأذن : ←
➡ مصاحبة أصدقاء السوء : ←
➡ الإسراع في تنفيذ ما يطلبان : ←
➡ أقدم هدية لأمي في كل مناسبة : ←
➡ لا أقول لوالدي أف : ←

التمرين الثالث :

صل بسهم بين كل كلمة وما يرادفها في المجموعة المقابلة :

الاعتداء	يعظكم
يعلمكم ويرشدكم	العدل
الحق بالحق	ذي القربى
الأقارب	الفحشاء والمنكر
المعاصي والمفاسد	البغي

اختبار مادة ت اسلامية الفصل الأول سنة 4 ابتدائي

3

النموذج رقم:

الإسم :
اللقب :

التمرين الأول :

- ◀ ما معنى الإيمان بالله تعالى ؟
- ◀ ما هي أركان الإيمان التي عرفتھا ؟

التمرين الثاني :

أكمل ما يلي بوضع الكلمة المناسبة :

الجنة - الأمانات - فراش - العلم - الحكمة .

◀ اشتهر علي بن أبي طالب بـ و.....

◀ نام علي بن أبي طالب في.....الرسول صلى الله عليه وسلم

ليلة الهجرة

◀ كلف الرسول صلى الله عليه وسلم علي بن أبي طالب بـ.....

◀ بشر الرسول صلى الله عليه وسلم علي بن أبي طالب بـ.....

التمرين الثالث :

ما هي أنواع الصدقات التي أمرنا بها الرسول صلى الله عليه وسلم ؟

التمرين الرابع :

أذكر بعض أنواع الملائكة ؟

اختبار مادة التاريخ الفصل الأول سنة 4 ابتدائي

1

النموذج رقم:

الإسم :
اللقب :

التمرين الأول: أكمل الناقص: 01 نوفمبر 1954 ، 05 جويلية 1962 ، 20 أوت 1955 ، 20 أوت 1956.

- اندلعت الثورة التحريرية في
- استرجعت الجزائر استقلالها في
- انتشرت الثورة التحريرية في الشمال القسطنطيني بفضل هجمات
- انعقد مؤتمر الصومام في

التمرين الثاني:

إملاً الفراغات بما يلي:

السلم الزمني - (هـ) - الميلادي - وحدة القياس - التقويم الميلادي -
هجرة الرسول صلى الله عليه وسلم من مكة إلى المدينة - الهجري - (م)
- مدة زمنية.

- أ. يحدد المؤرخون زمن وقوع الأحداث بتقويمين هما و
- ب. وسيلة عملية لتمثيل تسلسل الزمن.
- ج. بداية التقويم الهجري هي ونرمز له بـ
- د. ميلاد سيدنا عيسى عليه السلام هو بداية ونرمز له بـ
- هـ. عندما نرسم سلماً زمنياً نختار لتمثيل معينة.

التمرين الثالث: ضع صحيح أو خطأ أما العبارة المناسبة:

- تصنف الرسومات على الصخور ضمن الوثائق المكتوبة:
- تصنف الأدوات الفخارية ضمن الآثار:
- تصنف الرسائل ضمن الوثائق المكتوبة:

اختبار مادة التاريخ الفصل الأول سنة 4 ابتدائي

2

النموذج رقم:

الإسم :
اللقب :

التمرين الأول:

ضع أرقام الولايات التالية في الخانة المناسبة:

خنشلة: ← ، عنابة: ← ، وهران: ←
ميلة: ← ، تيارت: ← ، غرداية: ←

التمرين الثاني: أتم الفراغ بما يناسب:

الأنهار - البحيرات - المعادن - الاستقرار - النار - الأول - حياته -
الحيوانات - اكتشاف - طهي.

طور الإنسان..... مسكنه ثم..... أهمية..... وبدأت..... في.....
واعتنى ب..... واستخدم..... في..... طعامه وصهر..... واشتغل
بالزراعة البسيطة قرب..... و..... و..... ووسائل النقل والصيد.

التمرين الثالث:

أربط الشطر الأول بما يناسب في الشطر الثاني:

عاصمة الجمهورية

الإسلام

دين الدولة الجزائرية

اللغة العربية

اللغة الوطنية والرسمية

مدينة الجزائر

التمرين الرابع:

إلى كم صنف العلماء المصادر التاريخية؟ أذكرها؟

اختبار مادة التاريخ الفصل الأول سنة 4 ابتدائي

3

النموذج رقم:

الإسم :
اللقب :

التمرين الأول:

عين السياسة التي طبقها الاستعمار الروماني و الوندالي في العصر القديم بالجزائر:

- (1) حرمان النوميديين من حقوقهم.
- (2) مصادرة الأراضي النوميديية وتقديمها للمستوطنين.
- (3) الاستغلال الاقتصادي.
- (4) فرض الضرائب.

السياسة	الاستعمار
	الاستعمار الروماني
	الاستعمار الوندالي

التمرين الثاني: أربط بسهم بين الاستعمار الذي احتل الجزائر في العصر القديم ومدته:

534م إلى 647 م

الرومان

439م إلى 534 م

الوندال

146ق.م إلى 439 م

البيزنطيون

التمرين الثالث: ماذا تمثل لك هذه الأسماء:

يوغرطة – فير موسى – تاكفاريناس – دوناتوس.

للسنة الرابعة ابتدائي

موسوعة مبدعون التعليمية

اختبار مادة التاريخ الفصل الأول سنة 4 ابتدائي

4

النموذج رقم:

الإسم :
اللقب :

التمرين الأول:

يعتمد المؤرخ في كتابة التاريخ على عدة مصادر أذكرها ؟

التمرين الثاني: أربط كل معلم تاريخي بالحدث المناسب له:

استرجاع الجزائر حريتها واستقلالها	01 نوفمبر 1954 م
اندلاع الثورة التحريرية	05 جويلية 1962 م
انعقاد مؤتمر الصومام	1827 م
تحطيم الأسطول الجزائري بمعركة نافارين	20 أوت 1956 م

التمرين الثالث:

صنف الأعياد التالية إلى أعياد دينية ووطنية وعالمية مع التذكير بتواريخها:
عيد الفطر – عيد الاستقلال – عيد العمال – عيد الأضحى – عيد الطفولة
– عيد المرأة – عيد اندلاع الثورة التحريرية.

العِيد	نوعه	تاريخه

التمرين الرابع: ما هي المكونات الأساسية للهوية الوطنية؟

للسنة الرابعة ابتدائي

موسوعة مبدعون التعليمية

اختبار مادة تكنولوجية الفصل الأول سنة 4 ابتدائي

1

النموذج رقم:

الإسم :
اللقب :

التمرين الأول : ضع العبارات التالية في الخانات المناسبة:

- ◀ يدخل الهواء إلى الرئتين محملاً بغاز الأكسجين.
- ◀ الأمعاء الدقيقة والأمعاء الغليظة.
- ◀ فتحة الشرج.
- ◀ أوعية دموية تنقل الدم إلى أنحاء الجسم.
- ◀ تزويد الأعضاء بالغذاء و الأكسجين.
- ◀ نهضم الأغذية في المعدة.

الدورة الدموية	الجهاز الهضمي	الجهاز التنفسي

التمرين الثاني :

أربط بسهم بين العبارات التالية و ما يناسبها :

3 لتر

1 لتر

5 لتر

كمية الدم في جسم الإنسان

كمية الدم في جسم الأطفال

كمية الدم في جسم الرضيع

التمرين الثالث :

أذكر بعض القواعد الصحية .

اختبار مادة تكنولوجية الفصل الأول سنة 4 ابتدائي

2

النموذج رقم:

الإسم :
اللقب :

التمرين الأول :

ضع العلامة (✓) أمام العبارة الصحيحة والعلامة (x) أمام العبارة الخاطئة :

- ◀ عندما يتجمد الماء ينقص وزنه :
- ◀ الجليد يغوص في الماء :
- ◀ عند انصهار الجليد يزداد حجمه وتتغير كتلته :
- ◀ الماء يصبح صلباً عندما يسخن :
- ◀ يوجد الماء في الطبيعة على ثلاث حالات :

التمرين الثاني :

أكمل الفراغ بما يناسب :

الحرارة - يتبخر - يتميع - الانضغاط .

- ◀ ينصهر الجليد بفعل.....
- ◀ الهواء مادة مرنة قابلة.....
- ◀ الماء..... بفعل الحرارة و..... بفعل البرودة .

التمرين الثالث :

لصنع أداة تكنولوجية يجب تحديد مراحل الإنجاز، ما هي هذه المراحل ؟

التمرين الرابع :

ما هي خواص الهواء ؟

اختبار مادة تكنولوجية الفصل الأول سنة 4 ابتدائي

3

النموذج رقم:

الإسم:

اللقب:

التمرين الأول:

أربط بسهم كل عبارة وما يناسبها:

مادة مرنة قابلة للانضغاط

الهواء

ينصهر بفعل الحرارة

الماء

غاز ثاني الأوكسجين

نطرح أثناء

غاز ثاني أوكسيد الكربون

يحتوي الشهيقي

التمرين الثاني:

حدد القواعد الصحية للجهاز التنفسي اعتمادا على المفاهيم القبلية المكتسبة.

التمرين الثالث:

ما هي أهمية دوران الدم في الجسم؟ ومن المسؤول عن دوراته؟

التمرين الرابع:

عرف مايلي :

القلب - الكلية

اختبار مادة الجغرافيا الفصل الأول سنة 4 ابتدائي

1

النموذج رقم:

الإسم :
اللقب :

التمرين الأول:

إليك أسماء القارات الخمس ، ضع خطا تحت كل قارة لا ننتمي إليها:
آسيا – أوروبا – إفريقيا – أمريكا – أوقيانوسيا.

التمرين الثاني: صل بين الكلمة والجملة التي تشرح معناها:

هو مسطح مائي أصغر مساحة من المحيط

القارة

هو مساحة واسعة جدا من الماء المالح

البحر

هي مساحة واسعة من الأرض تحيط بها
البحار والمحيطات

المحيط

التمرين الثالث:

إليك المدن التالية ضع خطا تحت كل مدينة تطل على البحر:
قسنطينة – جيجل – المسيلة – بجاية – غرداية – تندوف – وهران –
الجزائر.

التمرين الرابع:

ضع صحيح أو خطأ أمام العبارة المناسبة:

- ◀ ينتمي وطني إلى قارة أوروبا:
- ◀ تضم الكرة الأرضية 6 قارات:
- ◀ شكل الأرض مستدير:

اختبار مادة الجغرافيا الفصل الأول سنة 4 ابتدائي

2

النموذج رقم:

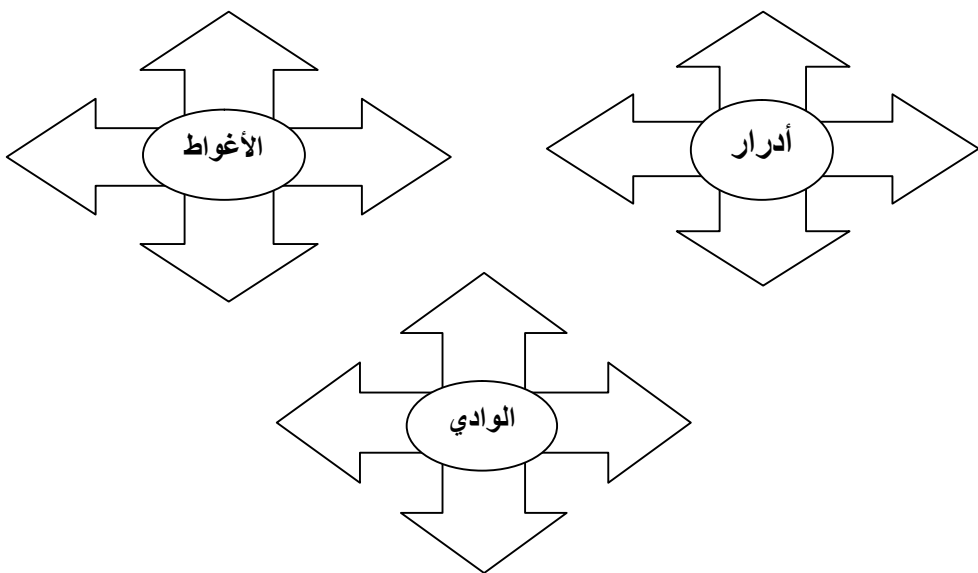
الإسم :
اللقب :

التمرين الأول:

عين الدول التي تحد الجزائر من الجنوب ومن الشرق ومن الغرب:
مالي – تونس – المغرب – نيجيريا – موريتانيا – ليبيا

التمرين الثاني:

أذكر الولايات التي تحيط بإدرار ، الأغواط ، الوادي.



التمرين الثالث:

أربط بسهم بين شطري الجملة:

تشرق الشمس

تدور الأرض دورة كاملة

تدور الشمس حول نفسها

للشمس حركة ظاهرية

في 24 سا

من الشرق إلى الغرب

من الغرب إلى الشرق

من جهة الشرق

اختبار مادة الجغرافيا الفصل الأول سنة 4 ابتدائي

3

النموذج رقم:

الإسم :
اللقب :

التمرين الأول:

ضع "صحيح" أو "خطأ" أمام كل عبارة:

- ◀ شكل الأرض مستدير:
- ◀ الخريطة لا تحتوي على رموز متنوعة:
- ◀ ينتمي وطني الجزائر إلى قارة إفريقيا:
- ◀ يركز استقراء الخريطة على المقياس:

التمرين الثاني:

عرف المصطلحات الجغرافية التالية:
القارة – المحيط – البحر.

التمرين الثالث:

ما هي البلدان التي لها حدود مشتركة مع الجزائر؟

التمرين الرابع:

أذكر المظاهر الطبيعية الموجودة في الصحراء؟

اختبار مادة ت مدنية الفصل الأول سنة 4 ابتدائي

1

النموذج رقم:

الإسم:

اللقب:

التمرين الأول:

أكمل الناقص:

- المواطن هو الذي يشعر.....
- كما يشعر بـ.....

التمرين الثاني:

من هم الأشخاص الذين يعاقبهم القانون؟

التمرين الثالث:

صل بسهم بين شطري الجملة:

- | | | | |
|-------------------|---|--------------|---|
| عن رعيته | ✂ | الأب مسؤول | ☞ |
| عن أسرته | ✂ | الأم مسؤولة | ☞ |
| عن مال سيده | ✂ | الخادم مسؤول | ☞ |
| عن عمله | ✂ | العامل مسؤول | ☞ |
| عن أولادها وبيتها | ✂ | الرئيس مسؤول | ☞ |

التمرين الرابع:

أذكر بعض مظاهر السلوك الحسن؟

اختبار مادة ت مدنية الفصل الأول سنة 4 ابتدائي

2

النموذج رقم:

الإسم :
اللقب :

التمرين الأول: عرف ما يلي:

- المسؤولية الفردية :
- الانتخاب :
- الترشح :

التمرين الثاني:

للمواطن في وطنه عدة حقوق أذكرها؟

التمرين الثالث:

ضع صحيح أو خطأ أمام كل عبارة:

✗ المواطن مطالب بواجبات نحو وطنه: [.....]

✗ القانون يعاقب كل شخص يسيء إلى رموز السيادة الوطنية: [.....]

✗ ليس كل المواطنين سواسية أمام القانون: [.....]

✗ لا يحق لمواطن يتمتع بحق المواطنة: [.....]

✗ الحق في الترشح لتولي مسؤولية عامة: [.....]

التمرين الرابع:

ما هي رموز السيادة الوطنية؟

اختبار مادة ت مدنية الفصل الأول سنة 4 ابتدائي

3

النموذج رقم:

الإسم :
اللقب :

التمرين الأول:

ضع صحيح أو خطأ أمام كل عبارة:

..... < الوطن هو الرقعة الجغرافية التي يقيم فيها المواطن:

..... < المسجد الأقصى في فلسطين ثالث الحرمين الشريفين:

..... < اليهود لم يتمكنوا من احتلال الأراضي الفلسطينية:

..... < الهاتف النقال لا يمكن الاتصال به من جميع الأماكن:

التمرين الثاني:

ما هي حقوق المواطنة التي يتمتع بها المواطن؟

التمرين الثالث:

عرف الهاتف؟

وما هي فوائده؟

التمرين الرابع:

أذكر الخدمات التي تقدمها البلدية للمواطنين.

الإجابة النموذجية للإختبار رقم :

التمرين الأول:

- ◀ سخر الله الأنعام للناس.
- ◀ أظلم الليل فسكنت الحرية
- ◀ جنل الأب بنجاح ابنه.
- ◀ قذف اللاعب الكرة بعيداً.

التمرين الثاني:

- ◀ سمعت العصفور يغرّد على الشجرة.
- ◀ شاهدت الشمس تشرق من وراء الجبل.
- ◀ كافأ المعلم التلميذ المجتهد.

التمرين الثالث:

- 1 يطوف الحجاج بالكعبة.
- 2 يخطف هرّ قطعة لحم.
- 3 يقطف الزهور في فصل الربيع.
- 4 يحرق الفلاح أرضه في الخريف.

التمرين الرابع:

- عالج : فعل ماضى مبنى على الفتح
الطبيب : فاعل مرفوع وعلامة رفعه الضمة
المريض: مفعول به منصوب وعلامة نصبه الفتحة

الإجابة النموذجية للإختبار رقم :

التمرين الأول:

الرعء	←	نزل
المطر	←	قطف
القطار	←	غربت
الشمس	←	وصل

التمرين الثاني: - مسح المعلم السبورة

- انتصر الفريق الجزائري على منافسه
- نجح التلميذ في الامتحان
- كافح المجاهدون الاستعمار
- نظف الطفل يديه قبل الأكل
- جلس الفلاح تحت الشجرة
- قرأ الأب الجريدة اليومية

التمرين الثالث:

أخفق	←	غلب
انتصر	←	رسب
الكثير	←	واسع
شاسع	←	الوفير

التمرين الرابع: تصريف الفعل فتح مع ضمائر الغائب

- هو : فتح - هما : فتحنا

- هي : فتحت - هم : فتحوا

- هما : فتحنا - هن : فتحن

التمرين الخامس: الإعراب : وقف : فعل ماضي مبني على الفتح , التلميذ : فاعل مرفوع وعلامة رفعه الضمة

الإجابة النموذجية للإختبار رقم :

التمرين الأول: مفعول به : قطفَ الطفلُ التفاحة

- ✍ فهم التلميذُ الدرس.
- ✍ شكر المعلمُ التلميذ.
- ✍ سجّل اللاعبُ هدفاً
- ✍ قرأ الرَّجُلُ الجريدة

التمرين الثاني: الجملة الفعلية :

- ✍ شربَ المريضُ الدواء.
- ✍ حزن الابنُ لموت أمه.
- ✍ وزع المديرُ الجوائز على الفائزين.

التمرين الثالث: الضمير المناسب :

- ✍ أنت تلعبين بالحبل .
- ✍ هو يراجع دروسه .
- ✍ أنتم تدافعون عن وطنكم .
- ✍ هي غسّلت الأواني .
- ✍ نحن نزور عممتنا في كل مرة .
- ✍ هم يحصدون القمح .

التمرين الخامس: أنت : تنجح

أنت : تنجحين

أنتما : تنجحا

أنتم : تنجحون

أنقن : تنجن

الإجابة النموذجية للإختبار رقم :

التمرين الأول: المدينة واسعة ، الولد مهذب، المطر غزير ، الشمس مشرقة ،

البحر هائج ، السماء صافية

التمرين الثاني:

تروى	بعثت
أرسلت	تسقى
ذهبت بعيدا	لطيفة
عطوفة	هجرت
جماعة	دارت
حامت	قفة

التمرين الثالث: كون البخار سحابة كبيرة - ارتوت الأزهار الجميلة - أصدر القاضي حكما عادلا

انتعش الزرع الأخضر - شكر المعلم التلميذ النجيب - تسكن خديجة في قرية مجاورة

التمرين الرابع: أعرب الجملة الآتية :

باع : فعل ماضي مبني على الفتح ، التاجر: فاعل مرفوع وعلامة رفعه الضمة

سلعة : مفعول به منصوب وعلامة نصبه الفتحة فاسدة : صفة منصوبة وعلامة نصبه الفتح

التمرين الاول :

حساب عدد الصناديق : $270 \div 15 = 18$

اذن عدد الصناديق هو : **18 صندوقاً**

حساب ثمن بيع الطماطم : $270 \times 30 = 8100$ DA

اذن ثمن الطماطم هو : **8100 دج**

التمرين الثاني :

$1900\text{cm} = 19 \text{ m}$ ، $2300\text{mm} = 23 \text{ dm}$

$4\text{kg} + 20\text{kg} = 4020 \text{ g}$ ، $5\text{kg} = 5000 \text{ g}$

التمرين الثالث :

73,9	436,5	135	58,40
- 3,9	- 8,20	- 87,25	- 47,91
-----	-----	-----	-----
= 70,00	= 428,30	= 47,75	= 10,49

التمرين الرابع :

حساب المبلغ الذي دفعه الأب لصاحب المحل :

$8500 + 450,50 + 65,50 = 1366$ DA

اذن : المبلغ هو **1266 دينار**

التمرين الأول :

208	154	75	48
x 7	x 8	x 24	x 23
= 1656	= 1232	= 1800	= 1104

التمرين الثاني :

حساب ثمن المنزر : $1250 - 650 = 600 \text{ DA}$

التمرين الثالث :

حساب مساحتها : $86 \times 43 = 3798 \text{ m}^2$

التمرين الرابع :

حساب ثمن الكتاب الثاني : $240 + 30 = 270 \text{ DA}$

حساب ثمن الكتاب الثالث : $240 - 80 = 160 \text{ DA}$

حساب ثمن الكتب الثلاث : $240 + 270 + 160 = 670 \text{ DA}$

حساب المبلغ الكلي : $670 + 30 = 700 \text{ DA}$

اذن المبلغ الكلي الذي بحوزة الأب هو : **700 دينار**

3 الإجابة النموذجية للاختبار رقم:

التمرين الأول:

274	135	170
+ 30	+ 1730	+ 315
+ 475	+ 27	+ 13
= 779	= 1892	= 498

التمرين الثاني: ضع رقما مناسباً أمام النقط:

$\div 2$	70	30	44	14	7	9	$\times 2$
	140	60	88	28	14	18	

التمرين الثالث:

ضع العلامة المناسبة مكان النقط: ($<$ ، $=$)

$9+11 = 32-12$ ، $6+15 = 3 \times 7$

$7+6 < 7 \times 6$ ، $20-5 < 4 \times 6$

$6 \times 3 < 11+8$ ، $8+20 > 7+13$

الوضعية الإدماجية:

أجرته في يوم : $18 \times 7 = 116$

أجراته في 30 يوم : $116 \times 30 = 3480 \text{ DA}$

التمرين الأول :

ضع العلامة المناسبة مكان النقط (> ، < ، =)

$410m > 140dm$

$130dm > 1,3m$

$1000mm < 10m$

$5300mm > 53cm$

$540cl = 5400ml$

$55km < 600hm$

التمرين الثاني :

حساب : $150 \times 5 = 750 m$

المسافة التي يقطعها محمد لأداء الصلوات الخمس هي : $750 m$

التمرين الثالث :

الحساب : $30 + 20 = 50$

عمر جدي هو : **50 سنة**

الوضعية الإدماجية :



التمرين الأول :

أكمل ما يلي :

$$5+60+300+1000 = 1365$$

$$8+30+600+7000 = 7638$$

$$2+30+900+3000 = 3932$$

التمرين الثاني :

← ليتمكن رياض من شراء الكرة يجب يكون لديه:

10 قطع ذات 20 دينار + 5 قطع ذات 50 دينار + 5 قطع ذات 10 دينار

أو

20 قطع ذات 50 دينار

التمرين الثالث :

$$(3 \times 20) + (2 \times 10) + (4 \times 5) = 60 + 20 + 20 = 100$$

← نعم يمكن لنسيمة شراء كتاب بـ 100 دينار

الوضعية الإدماجية :

← حساب محيط الحقل : $(97 + 54) \times 2m$

← حساب طول السياج اللازم : $302 - 2 = 300 m$

← حساب ثمن السياج : $300 \times 36 = 12600 DA$

← حسب ثمن الأعمدة : $120 \times 36 = 4320 DA$

← الثمن الكلي : $12600 + 4320 = 16920 DA$

التمرين الأول :

حول ما يلي إلى الغرام :

$$3\text{kg} = 3000 \text{ g} \quad , \quad 6\text{kg } 30\text{g} = 6300 \text{ g}$$

$$2\text{kg } 500\text{g} = 2500 \text{ g} \quad , \quad 33\text{kg} = 33000 \text{ g}$$

$$1\text{kg } 200\text{g} = 1200 \text{ g} \quad , \quad 4\text{kg } 400\text{g} = 4400 \text{ g}$$

التمرين الثاني :

- الزاوية (2) أوسع من الزاوية (1)

- الزاوية (1) أوسع من الزاوية (3)

- الزاوية (3) أوسع من الزاوية (4)

التمرين الثالث :

$$15 \times 7 = 105 \text{ : الحساب}$$

⚡ يجب أن يخبز لملئ الرفوف : 105 خبزة

الوضعية الإدماجية :

يدفع رب أسرة 2700 دينار فاتورة الكهرباء و 13700 مصاريف متنوعة و 2350 دينار ثمن أدوات مدرسية لأبنائه ويوفر مبلغ 1360 دينار .

- حساب مجموع المصاريف: $2700 + 13700 + 2350 = 18750\text{DA}$

- حساب مرتب الأب : $18750 + 1360 = 20110\text{DA}$

الإجابة النموذجية للاختبار رقم: 1

السؤال الأول:

قال تعالى { يا أيها الناس اعبنوا ربكم الذي خلقكم و الذين من قبلكم لعلكم تتقون }
{ الآية 21 سورة البقرة

السؤال الثاني:

قواعد السلوك	←	آداب المعاملة
المعروف	←	ضعيف البصر
الشر	←	الخير
الرجل أضعاع الطريق	←	المنكر
ردى البصر	←	الرجل أضعاع الطريق

السؤال الثالث:

السلوك القبيح	السلوك الحسن
الإسراف والتبذير	الإحسان , التحية
الحسد	قراءة القرآن
رمي الأوساخ	الصدق , التسامح
اللعب في الطريق	

التمرين الأول :

الوفاء بالعهد - قول الصدق - التكبر - مساعدة الضعفاء - كثرة الصلاة
- حسن الخلق - الكذب - التواضع - عدم إلقاء التحية .

التمرين الثاني :

- ⚡ الاجتهاد في الدراسة : ← صحيح
- ⚡ أخرج من المنزل دون أن أستأذن : ← خطأ
- ⚡ مصاحبة أصدقاء السوء : ← خطأ
- ⚡ الإسراع في تنفيذ ما يطلبان : ← صحيح
- ⚡ أقدم هدية لأمي في كل مناسبة : ← صحيح
- ⚡ لا أقول لوالدي أف : ← صحيح

التمرين الثالث :

الاعتداء	يعظكم
يعلمكم ويرشدكم	العدل
الحق بالحق	ذي القربى
الأقارب	الفحشاء والمنكر
المعاصي والمفاسد	البغي

التمرين الأول :

- ◀ الإيمان بالله تعالى : التصديق بان الله هو رب العالمين خالق كل شئ وهو على كل شئ قدير وهو واحد احد
- ◀ أركان الإيمان هي : الإيمان بالله , الإيمان بالأنبياء والرسل , الإيمان بالكتب المنزلة , الإيمان بالملائكة , الإيمان باليوم الآخر

التمرين الثاني :

- ◀ اشتهر علي بن أبي طالب بالعلم والحكمة
- ◀ نام علي بن أبي طالب في فراش الرسول صلى الله عليه وسلم ليلة الهجرة
- ◀ كلف الرسول صلى الله عليه وسلم علي بن أبي طالب برد الأمانة.
- ◀ بشر الرسول صلى الله عليه وسلم علي بن أبي طالب بالجنة .

التمرين الثالث :

- تبسمك في وجه أخيك صدقة
- الأمر بالمعروف والنهي عن المنكر
- إماطة الأذى عن الطريق
- المحافظة على نظافة المحيط

التمرين الرابع :

- بعض أنواع الملائكة :
- الكرام الكاتبون - ملائكة الرحمة - ملاك الوحي

الإجابة النموذجية للإختبار رقم : 1

التمرين الأول:

- ☞ اندلعت الثورة التحريرية في 01 نوفمبر 1954
- ☞ استرجعت الجزائر استقلالها في 05 جويلية 1962
- ☞ انتشرت الثورة التحريرية في الشمال القسطنطيني بفضل هجومات.
- 20 أوت 1955
- ☞ انعقد مؤتمر الصومام في 20 أوت 1956

التمرين الثاني:

- أ. يحدد المؤرخون زمن وقوع الأحداث بتقويمين هما الميلادي و الهجري
- ب. وحدة القياس وسيلة عملية لتمثيل تسلسل الزمن.
- ج. بداية التقويم الهجري هي هجرة الرسول صلى الله عليه وسلم من مكة إلى المدينة ونرمز له ب هـ
- د. ميلاد سيدنا عيسى عليه السلام هو بداية التقويم الميلادي ونرمز له ب (م)
- و. عندما نرسم سلما زمنيا نختار السلم الزمني لتمثيل مدة زمنية معينة.

التمرين الثالث:

- ضع صحيح أو خطأ أما العبارة المناسبة:
- ☞ تصنف الرسومات على الصخور ضمن الوثائق المكتوبة: خطأ
 - ☞ تصنف الأدوات الفخارية ضمن الآثار: صحيح
 - ☞ تصنف الرسائل ضمن الوثائق المكتوبة: صحيح

مادة التاريخ الفصل الأول

الإجابة النموذجية للإختبار رقم: 2

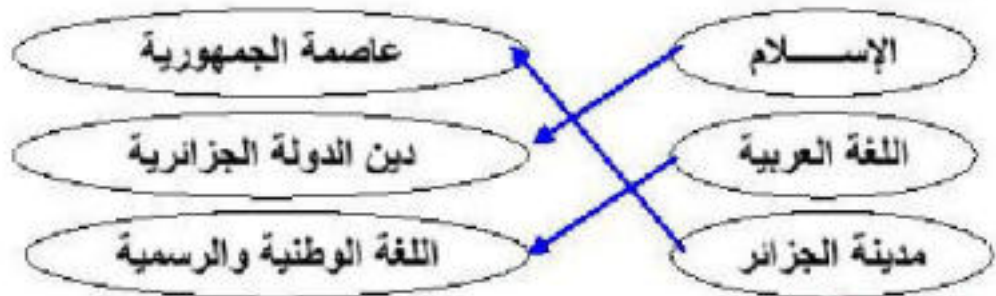
التمرين الأول:

خنشلة: ← 40	، عناية: ← 23	، وهران: ← 31
ميلة: ← 43	، تيارت: ← 14	، غرداية: ← 47

التمرين الثاني:

طور الإنسان الأول مسكنه ثم اكتشف أهمية النار وبدأت حياته في الاستقرار واعتنى بالحيوانات واستخدم النار في طهي طعامه وصهر المعادن واشتغل بالزراعة البسيطة قرب الأنهار والبحيرات كما طور وسائل النقل والصيد.

التمرين الثالث:



التمرين الرابع:

صنف العلماء المصادر التاريخية الى 3 اصناف هي:

- العصر الحجري القديم
- العصر الحجري الحديث
- فجر التاريخ

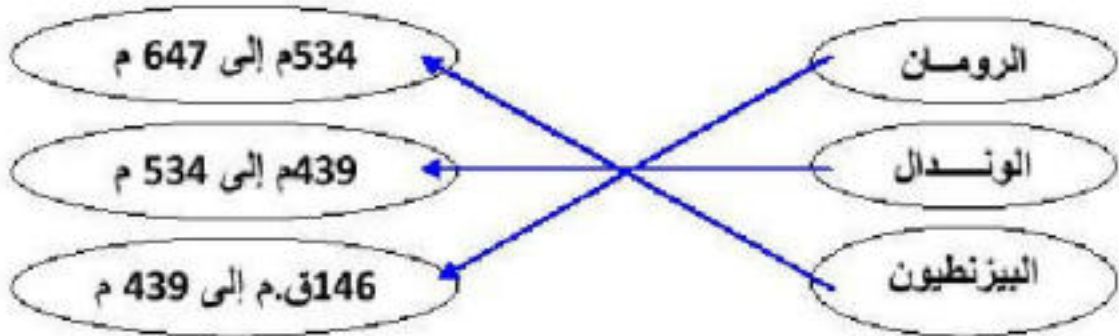
مادة التاريخ الفصل الأول

الإجابة النموذجية للإختبار رقم: 3

التمرين الأول:

الاستعمار	السياسة
الاستعمار الروماني	- حرمان النوميديين من حقوقهم - مصادرة الأراضي النوميديّة وتقديمها للمستوطنين - فرض الضرائب
الاستعمار الوندالي	- الاستغلال الاقتصادي

التمرين الثاني: الاستعمار الذي احتل الجزائر في العصر القديم ومدته:



التمرين الثالث:

هذه الأسماء: يوغرطة - فير موسى - تاكفاريناس - دوناتوس تمثل القادة النوميديين الثائرين على الاستعمار الروماني

للسنة الرابعة ابتدائي

موسوعة مبدعون التعليمية

مادة التاريخ الفصل الأول

الإجابة النموذجية للإختبار رقم : 4

التمرين الأول:

يعتمد المؤرخ في كتابة التاريخ على عدة مصادر هي :
المخطوطات, الرسومات, المعالم الأثرية, النقود, الأدوات, الأواني, المنحوتات,

التمرين الثاني: ربط كل معلم تاريخي بالحدث المناسب لها:

- 01 نوفمبر 1954 م ← استرجاع الجزائر حريتها واستقلالها
05 جويلية 1962 م ← اندلاع الثورة التحريرية
1827 م ← انعقاد مؤتمر الصومام
20 أوت 1956 م ← تحطيم الأسطول الجزائري بمعركة نافرين

التمرين الثالث:

العید	نوعه	تاريخه
- عيد الفطر	ديني	1 شوال
- عيد الاستقلال	وطني	5 جويلية
- عيد العمال	عالمي	1 ماي
- عيد الاضحى	ديني	10 ذو الحجة
- عيد الطفولة	عالمي	1 جوان
- عيد المرأة	عالمي	8 مارس
- اندلاع الثورة التحريرية	وطني	1 نوفمبر

التمرين الرابع: المكونات الأساسية للهوية الوطنية هي:
الإسلام + العروبة + الأمازيغية

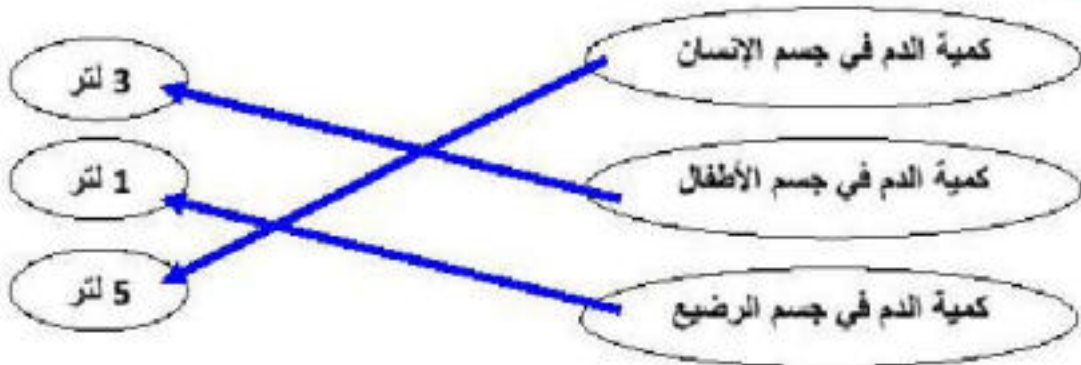
للسنة الرابعة ابتدائي

موسوعة مبدعون التعليمية

التمرين الأول:

النورة الدموية	الجهاز الهضمي	الجهاز التنفسي
- اوعية دموية تنقل الدم إلى أنحاء الجسم - تزويد الأعضاء بالغذاء و الأكسجين	- الأمعاء الدقيقة والأمعاء الغليظة - نهضم الأغذية في المعدة - فتحة الشرج	يدخل الهواء إلى الرئتين محملا بغاز الأكسجين

التمرين الثاني:



التمرين الثالث:

بعض القواعد الصحية:

- التبول عند الشعور بالحاجة للبول
- ممارسة الرياضة
- الغذاء الصحي والتنظيف
- الابتعاد عن التدخين
- المضغ الجيد عند الأكل

التمرين الأول:

- ◀ عندما يتجمد الماء ينقص وزنه : x
- ◀ الجليد يغوص في الماء : x
- ◀ عند انصهار الجليد يزداد حجمه وتتغير كتلته : x
- ◀ الماء يصبح صلبا عندما يسخن : x
- ◀ يوجد الماء في الطبيعة على ثلاث حالات :

التمرين الثاني:

- ◀ ينصهر الجليد بفعل الحرارة
- ◀ الهواء مادة مرنة قابلة للانضغاط
- ◀ الماء يتبخر بفعل الحرارة و يتميع بفعل البرودة.

التمرين الثالث:

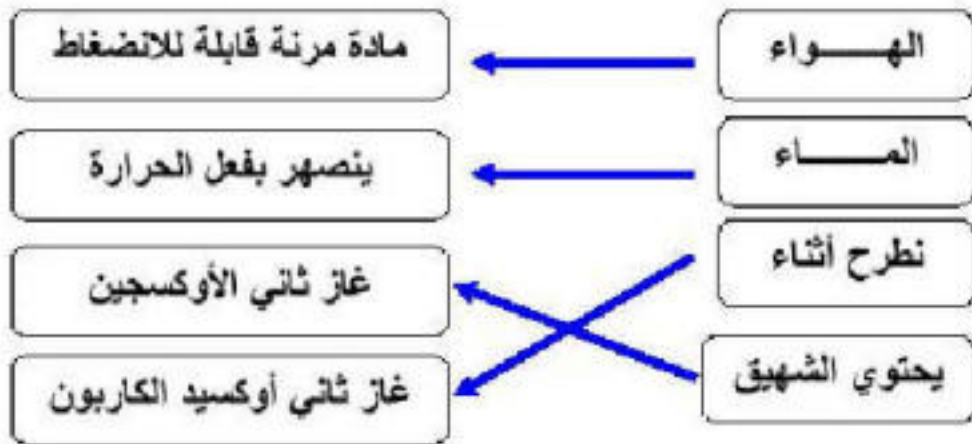
- مراحل الإنجاز هي:
- اختيار المواد والأدوات اللازمة للمشروع , فهم كيفية العمل والتشغيل ,
- تحديد مراحل الانجاز

التمرين الرابع:

- خواص الهواء هي :
- الهواء يحجز , الهواء قابل للضغط ,الهواء يتمدد

الإجابة النموذجية للاختبار رقم:

التمرين الأول:



التمرين الثاني:

القواعد الصحية للجهاز التنفسي هي: تجنب التدخين واستنشاق المواد السامة , تجديد هواء الغرفة , ممارسة الرياضة , الابتعاد عن الامكن المزدحمة

التمرين الثالث:

أهمية دوران الدم في الجسم هي تغذية الجسم بالغذاء والأكسوجين ويخلصها من الفضلات من خلال دورنه على أعضاء الجسم والمسؤول عن دوران الدم هو القلب

التمرين الرابع:

القلب : هو عضلة قوية حمراء اللون موجود في التجويف الصدري بين الرنتين يعمل باستمرار لدفع الدم في مختلف أنحاء الجسم مثل المضخة الكلية : هي عضو من أعضاء الإطراح تعمل كمصفاة وعملها ضروري لحياة الإنسان

الإجابة النموذجية للإختبار رقم: 1

التمرين الأول:

القارات التي لا ننتمي إليها:

آسيا - أوروبا - إفريقيا - أمريكا - أوقيانوسيا.

التمرين الثاني:



التمرين الثالث:

المدن التي تطل على البحر هي :

قسنطينة - جيجل - المسيلة - بجاية - غرداية - تندوف - وهران -

الجزائر.

التمرين الرابع:

ضع صحيح أو خطأ أمام العبارة المناسبة:

◀ ينتمي وطني إلى قارة أوروبا: خطأ

◀ تضم الكرة الأرضية 6 قارات: صحيح

◀ شكل الأرض مستدير: صحيح

التمرين الأول:

عين الدول التي تحد الجزائر من الجنوب ومن الشرق ومن الغرب:

- يحد الجزائر من الغرب : المغرب
- يحد الجزائر من الشرق : تونس + ليبيا
- يحد الجزائر من الجنوب : مالي + نيجيريا + موريتانيا

التمرين الثاني:



التمرين الثالث:

- | | | |
|-----------------------|---|--------------------|
| تشرق الشمس | ← | في 24 سا |
| تدور الأرض دورة كاملة | ← | من الشرق إلى الغرب |
| تدور الشمس حول نفسها | ← | من الغرب إلى الشرق |
| للشمس حركة ظاهرية | ← | من جهة الشرق |

التمرين الأول:

- ◀ شكل الأرض مستدير: **صحيح**
- ◀ الخريطة لا تحتوي على رموز متنوعة: **خطأ**
- ◀ ينتمي وطني الجزائر إلى قارة إفريقيا: **صحيح**
- ◀ يركز استقراء الخريطة على المقياس: **خطأ**

التمرين الثاني:

- القارة هي : مساحة واسعة من الأرض تحيط بها البحار والمحيطات
- المحيط هو : مساحة واسعة جدا من الماء المالح
- البحر هو: مساحة من الماء المالح اقل حجما من المحيطات

التمرين الثالث:

- البلدان التي لها حدود مشتركة مع الجزائر هي : مالي – تونس – المغرب
- نيجيريا – موريتانيا – ليبيا

التمرين الرابع:

- المظاهر الطبيعية الموجودة في الصحراء هي :
- الجبال البركانية
- العرق
- الرق

الإجابة النموذجية للإختبار رقم : 1

التمرين الأول:

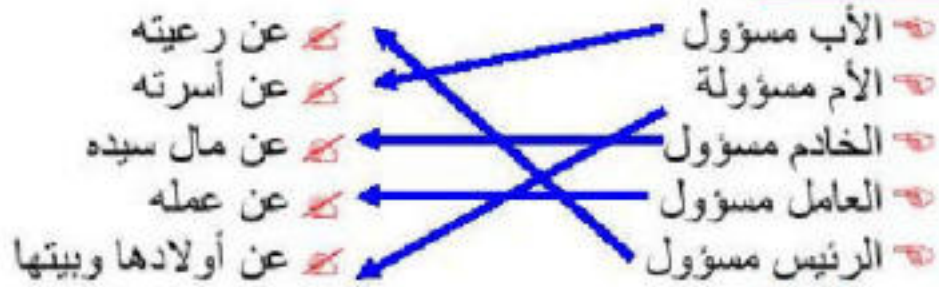
أكمل الناقص:

- المواطن هو الذي يشعر بقوة الانتماء للوطن والمجتمع الذي يعيش فيه .
- كما يشعر بالانتماء لأسرته وقبيلته .

التمرين الثاني:

الأشخاص الذين يعاقبهم القانون هم الذين يرتكبون مخالفات للقانون تمس بحقوق الآخرين والأملك العامة

التمرين الثالث:



التمرين الرابع:

بعض مظاهر السلوك الحسن هي :

- النظافة والاعتناء بالهندام
- مشط الشعر وتقليم الأظافر
- التخلق بالأخلاق الحميدة و نبذ الأنانية
- التحدث بصوت منخفض وكلام لائق

التمرين الأول:

- المسؤولية الفردية : هي تحمل نتائج تصرفاتك تجاه الآخرين
 - الانتخاب : حق وطني يتم فيه التصويت وفقا لرغبتك وقناعتك الشخصية
 - الترشح : هو التسجيل وعرض نفسه لينتخب عليك الآخرون
- التمرين الثاني: للمواطن في وطنه عدة حقوق هي :

- الحق في التعليم
- الحق في العلاج والرعاية الصحية
- الحق في العمل والسكن
- الحق في حرية التعبير والتنقل
- الحق في الانتماء للجمعيات القانونية
- الحق في الترشح والانتخاب

التمرين الثالث:

- ✗ المواطن مطالب بواجبات نحو وطنه: **صحيح**
- ✗ القانون يعاقب كل شخص يسيء إلى رموز السيادة الوطنية: **صحيح**
- ✗ ليس كل المواطنين سواسية أمام القانون: **خطأ**
- ✗ لا يحق للمواطن التمتع بحق المواطنة: **خطأ**
- ✗ الحق في الترشح لتولي مسؤولية عامة: **خطأ**

التمرين الرابع:

رموز السيادة الوطنية هي : النشيد الوطني , العلم الوطني , العملة الوطنية

الإجابة النموذجية للإختبار رقم : 3

التمرين الأول:

ضع صحيح أو خطأ أمام كل عبارة:

صحيح

◀ الوطن هو الرقعة الجغرافية التي يقيم فيها المواطن:

صحيح

◀ المسجد الأقصى في فلسطين ثالث الحرمين الشريفين:

خطأ

◀ اليهود لم يتمكنوا من احتلال الأراضي الفلسطينية:

خطأ

◀ الهاتف النقال لا يمكن الاتصال به من جميع الأماكن

التمرين الثاني:

حقوق المواطنة التي يتمتع بها المواطن هي :

- الحق في التعليم
- الحق في العلاج والرعاية الصحية
- الحق في العمل والسكن
- الحق في حرية التعبير والتنقل
- الحق في الانتماء للجمعيات القانونية
- الحق في الترشح والانتخاب

التمرين الثالث:

الهاتف هو : هو وسيلة للتواصل والاتصال مع الآخرين عن قرب أو عن بعد بواسطة جهاز خاص

فوائده : يقرب المسافات , يسعد في كسب الوقت والراحة والمال , يكون علاقة بين الأفراد والمؤسسات , يساعد في العمليات التجارية , طلب النجدة

التمرين الرابع: الخدمات التي تقدمها البلدية للمواطنين هي : صيانة الطرقات والأماكن العامة وتنظيفها , تقديم مساعدات اجتماعية , إصدار وتسجيل وثائق مدنية