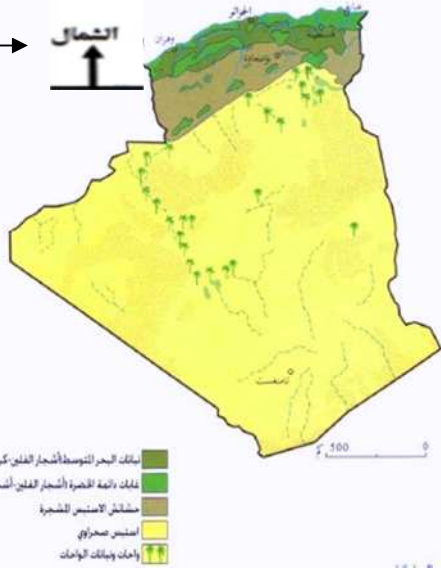


4

↑ الشمال



2

الغطاء النباتي في الجزائر

3

1

السؤال الأول : لاحظ الخريطة و اكمل ما يلي:

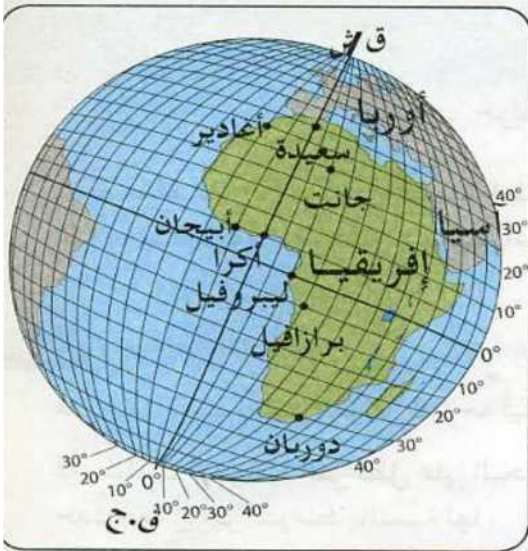
- الرقم يمثل مفتاح الخريطة .
- الرقم 4 يمثل
- الرقم يمثل عنوان الخريطة .
- الرقم يمثل مقياس الخريطة .

الغطاء النباتي في الجزائر

التمرين الثاني : أكمل :

- الإحداثيات الجغرافية لمدينة سعيدة هما :
(..... و)

- الإحداثيات الجغرافية لمدينة هما :
(30° شرقا و 30° جنوبا)



السؤال الثالث : ضع (ص) أو (خ) :

- البوصلة آلة دقيقة تدلنا على جهة الشمال (.....)
- تقع قارة أوروبا في النصف الشمالي للكرة الأرضية (.....)
- خط الاستواء دائرة تقسم الكرة الأرضية إلى أربع أجزاء (.....)
- خطوط الطول و دوائر العرض شبكة وهمية . (.....)
- خط غرينيتش يمثل الدائرة 0° (.....)

السؤال الرابع : اكمل بالمظهر التضاريسي المناسب لكل تعريف :

- * أرضٌ مُستَوِيَةٌ مِثْلَ السُّهولِ لَكِنَّهَا أَكْثَرُ ارْتِفَاعًا مِنْهُ .
- * مَظْهَرٌ تَضَارِيسِي يَتَمَيَّزُ بِالارْتِفَاعِ .
- * أَرْضٌ مُنْخَفِضَةٌ مَحْصُورَةٌ بَيْنَ مَرْتَفَعَيْنِ وَ تَفْصِلُ بَيْنَهُمَا .
- * مِسَاحَةٌ مُسْتَوِيَةٌ مِنَ الْأَرْضِ ، وَهِيَ أَقْرَبُ التَّضَارِيسِ إِلَى مُسْتَوَى سَطْحِ الْبَحْرِ .

اختبار الفصل الأول في التاريخ و الجغرافيا

التاريخ :

أكمل ما يلي :

- عاصمة نومديا الغربية هي :
 - عاصمة نومديا الشرقية هي :
 - توحدت نوموديا الشرقية و الغربية على يد :
 - ازدهرت نوموديا زراعيًا و صناعيًا , أذكر أهم المحاصيل و الصناعات التي ازدهرت بها نوموديا
- إنّ هدف الإستعمار و الوندالي و..... في نوموديا كان واحدا وهو استغلال الشعب الأمازيغي و السيطرة على
- أذكر بعض ملوك نوموديا او الشخصيات التي برزت في تلك الحقبة من هي الشخصية التي اعجبتك و لماذا؟

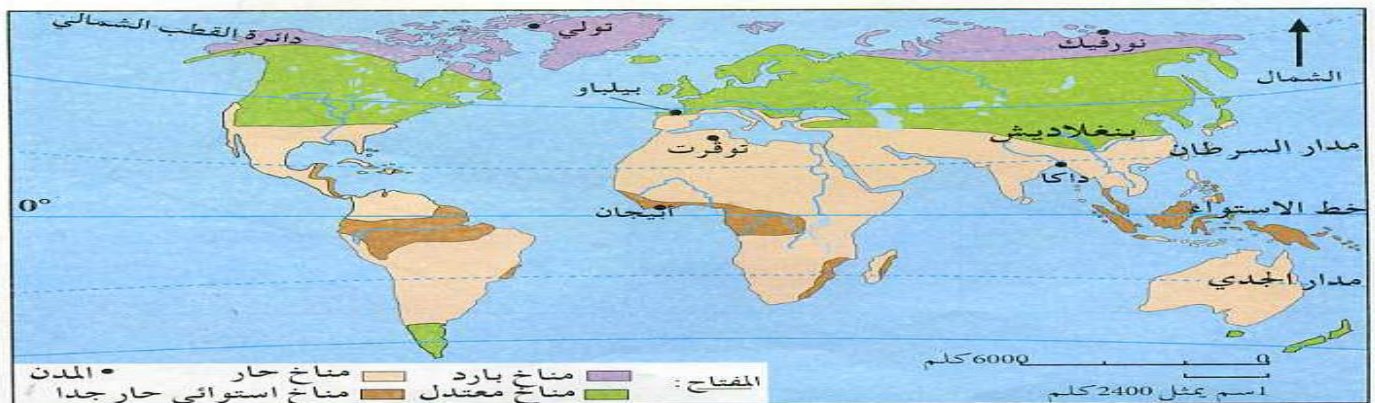
الجغرافيا:

أربط بسهم :

- | | |
|----------|-------------------------------|
| - الجبل | مساحة مستوية من الأرض |
| - السهل | أرض مستوية لكنها أكثر ارتفاعا |
| - الوادي | مظهر تضاريسي يتميز بالإرتفاع |
| - الهضبة | أرض منخفضة محصورة بين مرتفعين |

ما الفرق بين الطقس و المناخ ؟

إليك الخريطة الاتية استخرج منها الأقاليم المناخية الكبرى :



(اختبار الفصل الأول لتلاميذ السنة الرابعة)

المدة 45 دقيقة

ديسمبر 2013

في نشاط التاريخ

التمرين الأول : (03)

رتب الأحداث الآتية ترتيبا زمنيا بوضع الأرقام :

- > عيد الاستقلال 05 جويلية 1962.
- > عيد الثورة التحريرية 01 نوفمبر 1954
- > احتلال الجزائر 05 جويلية 1830.
- > انعقاد مؤتمر الصومام 20 اوت 1956 .
- > مظاهرات 11 دديسمبر . 1960.
- > ولد غسان في 09 فيفري 1998.

التمرين الثاني : (04)

ضع علامة (و) أمام العيد الوطني و علامة (د) أمام العيد الديني :

- | | | | |
|--------------------------|---------------|--------------------------|------------------------|
| <input type="checkbox"/> | - عيد الفطر | <input type="checkbox"/> | - عيد الاستقلال |
| <input type="checkbox"/> | - عيد عاشوراء | <input type="checkbox"/> | - عيد الشباب. |
| <input type="checkbox"/> | - عيد الثورة | <input type="checkbox"/> | - المولد النبوي الشريف |
| <input type="checkbox"/> | - يوم المجاهد | <input type="checkbox"/> | - رأس السنة الهجرية |

التمرين الثالث : (03)

أربط الولاية برقمها :

- | | |
|---------------------------------|-----------|
| <input type="text" value="03"/> | ▪ الجلفة |
| <input type="text" value="17"/> | ▪ الاغواط |
| <input type="text" value="16"/> | ▪ تمنراست |
| <input type="text" value="11"/> | ▪ الجزائر |
| <input type="text" value="14"/> | ▪ البيض |
| <input type="text" value="32"/> | ▪ تيارت |

(اختبار الفصل الأول لتلاميذ السنة الرابعة)

المدة 45 دقيقة

ديسمبر 2013

في نشاط الجغرافيا

التمرين الأول : (04)

أربط بسهم بين الجهات الأساسية والجهات الفرعية :

الجهات الأساسية

الجهات الفرعية

- الشمال
- الجنوب الشرقي
- الغرب
- الشمال الشرقي
- الجنوب الغربي
- الشرق
- الشمال الغربي
- الجنوب

التمرين الثاني : (03)

اربط بسهم بين الكلمة وتعريفها :

- قمة الجبل
- يقع بين قمة الجبل وحدّه
- حدّ الجبل
- أعلى الجبل
- سفح الجبل
- أسفل الجبل

التمرين الثالث : (03)

القارات الخمسة هي :

- (1)
- (2)
- (3)
- (4)
- (5)

السنة الدراسية 2013 / 2014

الصف / الرابع ابتدائي

مفتشية التعليم الابتدائي المقاطعة 2

مدرسة /

اختبار الفصل الاول

في مادة التاريخ

السؤال الاول : (5)

ضع كلمة صحيح او خاطئ امام كل عبارة

_ كانت الجزائر قديما تسمى سيرت ()

_ من ملوك نوميديا فرمينا ()

_ كان نظام الحكم في الدولة النوميديية جمهوريا ()

_ اهم المحاصيل الزراعية في نوميديا البن والارز ()

_ اهتم النوميديون ببناء السفن وصناعة الفخار ()

السؤال الثاني (5)

اكمل الجمل الاتية بما يناسب

_ من المدن التي طورها النوميديونو.....1

_ صك النوميديون العملة الوطنية لـو.....1

_ في ميدان الزراعة اعتنى النوميديون بـو.....و.....1

_ عرفت نوميديا الشرقية باسمو..... وعرفت نوميديا الغربية باسم 2

السنة الدراسية 2013 / 2014

الصف / الرابع ابتدائي

مفتشية التعليم الابتدائي المقاطعة 2

مدرسة /

اختبار الفصل الاول

في مادة الجغرافيا

السؤال الاول (4)

اربط بسهم

* الجبال

ارض مستوية مثل السهول لكنها اكثر ارتفاعا منه .

* السهول

مظهر تضارسي يتميز بالارتفاع .

* الهضاب

ارض منخفضة محصورة بين مرتفعين وتفصل بينهما .

* الوادي

مساحة مستوية من الارض ، وهي اقرب التضاريس الى مستوى سطح البحر *

السؤال الثاني (6)

اكمل الجمل الاتية بما يناسب

_ الجهات الاساسية هي و..... و..... و.....

_ بواسطة البوصلة يمكننا ان نحدد

_ الطقس هو والمناخ هو

_ النشرة الجوية تفيدنا

العام الدراسي: 2015/2014
إمضاء الولي:

اختبار الفصل الأول
في مادة التاريخ

ابتدائية : الإخوة فروخي سيدي محمد
المستوى: الثالثة ابتدائي

الاسم واللقب :

التمرين الأول (3ن): لَوْنِ الْمَصَادِرِ التَّارِيخِيَّةِ

الرُّسُومَاتِ الْحَجَرِيَّةِ

النُّقُودِ

الأدوات و الأواني

الكتب

الفواكه

الكراسات

التمرين الثاني (3ن): اربط كلُّ حَدَثٍ بِتَارِيخٍ وُقُوعِهِ.

01 نُوفَمْبَر 1954.

05 جُوْبِلْيَّة 1962.

05 جُوْبِلْيَّة 1830.

اِحْتَاتِ فِرَنْسَا الْجَزَائِرِ.

اِنْدَلَعَتِ الثَّوْرَةُ التَّحْرِيْرِيَّةِ.

اسْتَقَلَّتِ الْجَزَائِرِ.

التمرين الثالث (4ن): اَكْمِلْ مَا يَلِي

هِجْرَةُ الرَّسُوْلِ - صَلَّى اللهُ عَلَيْهِ وَسَلَّمَ - مِنْ مَكَّةَ إِلَى الْمَدِيْنَةِ هِيَ بَدَايَةُ التَّقْوِيْمِ وَ نَرْمُزُ لَهُ بِالرَّمْزِ

مِيْلَادُ الْمَسِيْحِ - عَلَيْهِ السَّلَامُ - هُوَ بَدَايَةُ التَّقْوِيْمِ وَ نَرْمُزُ لَهُ بِالرَّمْزِ

مَعَ تَمَيُّزَاتِي لَكُمْ بِالتَّوْفِيقِ

العام الدراسي: 2015/2014
إمضاء الولي:

اختبار الفصل الأول
في مادة الجغرافيا

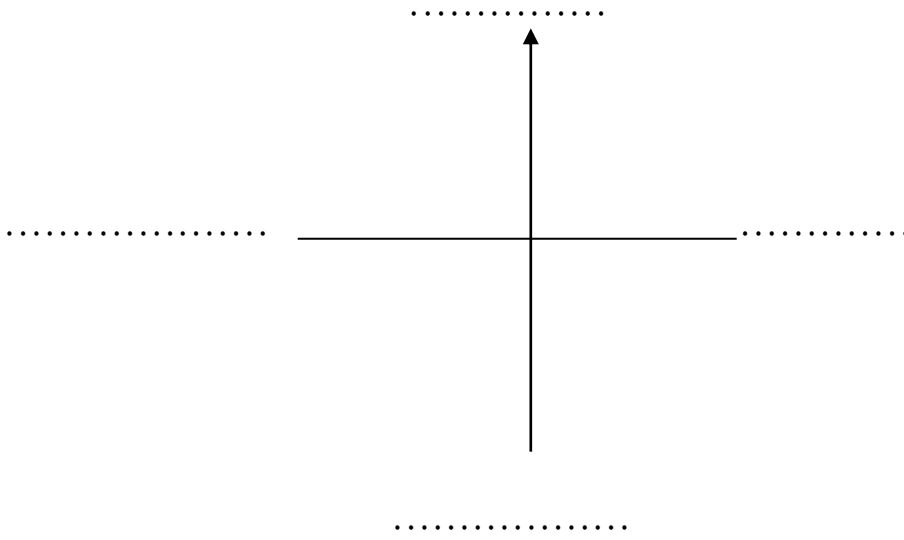
ابتدائية: الإخوة فروخي سيدي محمد
المستوى: الرابعة ابتدائي

الاسم واللقب:

التّمرين الأول (2ن): أكمل ما يلي.

الخريطة: هي مصغرٌ يُمثّلُ الأرضية أو جزء منها.

التّمرين الثاني (4ن): عين الجهات الأربع.



التّمرين الثالث (4ن): اربط بينهم

عُنْوَانُ الخَرِيْطَةِ

أَتَعَرَّفُ عَلَى مَوْضُوعِ الخَرِيْطَةِ بِوَاسِطَةِ

مِفْتَاحُ الخَرِيْطَةِ

أَقْرَأُ الخَرِيْطَةَ بِوَاسِطَةِ

أَرْضٌ مُنْخَفِضَةٌ مَحْصُورَةٌ بَيْنَ مُرْتَفَعَيْنِ.

الجَبَلِ

مَظْهَرٌ تَضَارِيْسِي يَتَمَيَّزُ بِالرِّتْفَاعِ.

الوَادِي

الاسم واللقب:

اختبار الفصل الأول في مادة التاريخ

الوضعية الأولى: (3 ن) إليك مجموعة من الاحداث ، صنفها حسب الجدول:

ذكرى اندلاع الثورة التحريرية - حفلة ختان الابن - عيد الأضحى - حفل زواج الأخت
البيكالوريا - تاهل الفريق الوطني لتصفيات كأس العالم.
نجاح الأخ في امتحان

الحدث الاجتماعي	الحدث الشخصي
.....
.....
.....

الوضعية الثانية: (2ن) أجب بصحيح أو خطأ فيما يلي:

1. التاريخ هو دراسة جهود الإنسان من الماضي نحو الحاضر في مظاهرها المختلفة. (.....)
2. السلم الزمني نسجل عليه الأحداث، ونرتبها من اليسار إلى اليمين (.....)
3. المؤرخ هو الإنسان الذي يهتم ويبحث في التاريخ. (.....)
4. يُنسب التقويم الميلادي إلى ميلاد سيدنا آدم عليه السلام (.....)

الوضعية الثالثة: (2ن) أكمل مكان النقط بما يناسب:

الأحداث التي وقعت قبل ميلاد نرمل لها ب (.....)
الاحداث التي وقعت بعد ميلاد نرمل لها ب (.....)

الوضعية الإدماجية: (3ن)

تخرّج مهدي من الجامعة سنة 2012م، وأدى واجبه تجاه الخدمة الوطنية سنة 2014م، وكان قد نجح في امتحان شهادة البكالوريا سنة 2008م. إذا علمت أن مهديا من مواليد سنة 1989م رتب هذه الأحداث على سلم زمني.

.....
.....
.....
.....

الاسم:

اللقب:

العلامة

10

الوضعية الأولى (3ن): أضغ علامة ✓ أمام الجواب الصحيح، وعلامة ✗ أمام الجواب الخاطئ وضح الخطأ:

1. عنوان الخريطة وحده كاف لاستقراءها (.....)

2. تساعدنا البوصلة في تحديد جهة الشمال. (.....)

3. كل الجهات ثابتة ماعدا الفرعية. (.....)

4. تساعد الجهات الفرعية في تحديد أحسن لأي مكان أو نقطة على الخريطة. (.....)

5. خط الاستواء يقسم الكرة الأرضية إلى نصفين شرقي وغربي. (.....)

6. خطّ غرينيتش لا يمرّ من الجزائر. (.....)

الوضعية الثانية (2 ن): أكمل مكان النقط بما يناسب:

✓ أساسيات الخريطة هي: و و

الوضعية الثالثة (2ن): استعن بالخريطة المرافقة وحدد بدقة جهة المدن التالية:

تلمسان:

إيليزي:

تبسة:

تندوف:

الوضعية الإدماجية: (3ن):

قامت مجموعة من التلاميذ أثناء رحلة إلى مدينة تمنراست. وفي الطريق شاهدوا لافتة تشير إلى مدار السرطان ، توقفوا بحثا

عنه ، إلا أنهم لم يجدوا له أثرا.

هل تعتقد أن هؤلاء التلاميذ بإمكانهم العثور عليه إن جدّوا في البحث عليه؟ ولماذا؟



الجغرافيا

- 1 - ما الفرق بين السهل و الهضبة ؟
- 2 - أضع (ص) او (خ) ثم أصحح الخطأ
بواسطة المفتاح أستقرئ موضوع الخريطة (...)
أعلى مرتفع في افريقيا هو قمة كليمانجارو (...)
كل الجهات ثابتة يتغير اتحاهها (...)
أعلى مرتفع في العالم هو قمة افراسن(جبال هيمالايا) (...)
للمشمس حركة ظاهرية من الغرب الى الشرق (...)
البوصلة آلة دقيقة تدلنا على جهة الشمال (...)

التاريخ :

- 1 - صنف مايلي حسب الجدول

اندلاع الثورة التحريرية - راس السنة الهجرية - عاشوراء - عيد النصر - يوم الشهيد - مؤتمر الصومام

احداث وطنية	احداث دينية
.....

- 2 - اكمل

- التاريخ هو
- السلم الزمني هو

التاريخ : (5 نقاط)

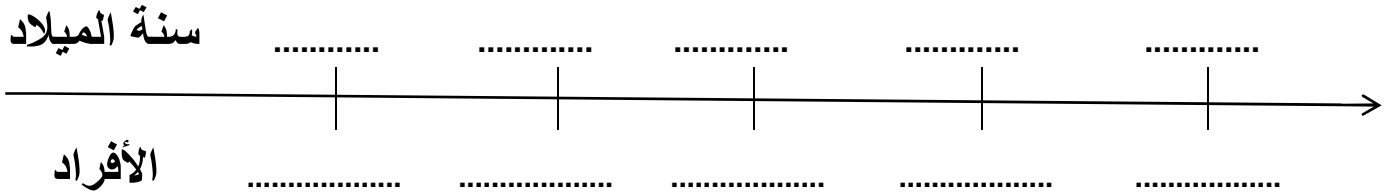
1- اربط بسهم بين الحدث و طبيعته .



- عيد الميلاد
- عيد الثورة
- دخولي إلى المدرسة أول مرة
- عيد الأضحى

2- ارسم السلم الزمني ثم رتب عليه أفراد العائلة التالية :

- سنة ميلاد الأم: 1985 - سنة ميلاد الجدة: 1952 - سنة ميلاد البنت: 2002
- سنة ميلاد الأب: 1973 - سنة ميلاد الولد: 2007



السلم الزمني


3- عرّف التاريخ .

الجغرافيا : (5 نقاط)

*- أجب عن الأسئلة التالية :

- 1- ماهي أساسيات الخريطة ؟
- 2- ما هما السلسلتان الجبلتان الموجودتان في شمال الجزائر ؟
- 3- ماهي الهضبة ؟ وضح ذلك برسم بسيط .

**** بالتوفيق للجميع ****



اختبار الفصل الأول في مادة التاريخ والجغرافيا

التاريخ: (5 نقاط)

1. اربط بسهم بين ما يناسب:
- سكن إنسان الحجري القديم في
 - ثم أنشأ الأكواخ من
 - ابتكر الكتابة
 - اعتمد الإنسان الأول في غذائه على
 - كانت وسيلته الأولى في العمل هي
 - الحجارة
 - الثمار والصيد
 - الكهوف والمغارات
 - جلود الحيوانات
 - فجر التاريخ
2. ضع الكلمات (سيقا، سيفاقس، ماسيليا، يوغرطة، المملكة النوميديّة) في مكانها المناسب من النص التاريخي الآتي:
- توحدت المملكتان: نوميديا الشرقية.....ونوميديا الغربية ماسيسيليا على يد كل من الملك.....
- ثم الملك ماسينيسا، ثم الملك.....وأصبحت تسمى ب.....وكانت أهم مدنها سيرتا و.....

الجغرافيا: (5 نقاط)

1) ضع (ص) أمام العبارة الصحيحة، و(خ) أمام العبارة الخاطئة في ما يأتي:

- الجبيل مظهر تضاريسي يتميز بالارتفاع.
- الوادي أرض مرتفعة محصورة بين منخفضين.
- تدور الأرض حول الشمس في مدة 365 ساعة و 6 دقائق
- الطقس هو حالة الجو لمدة قصيرة

2) اربط بسهم بين الأحوال الجوية ورمزها:




- سحب عابرة
- جو مشمس
- زوابع رملية
- أمطار
- رعود
- حالة البحر



لاحظ الشهر الهجري المُسجَّل على السُّورَة.

اكتب هذا الشهر والشهر الماضي والشهر المقبل والذي يليه في المكان المناسب على السلم الزمني :



التمرين الثاني(2.5ن): اربط كل حدث بنوعه :

- | | |
|--------------------------------------|--|
| <p>حدث شخصي</p> <p>حدث اجتماعي .</p> | <p>- إجراء عملية جراحية .</p> <p>- حفل زواج الأخ .</p> <p>- الانتقال إلى السنة الخامسة .</p> <p>- إصابة سائق في حادث مرور</p> <p>- إنهيار منزل عائلة .</p> |
|--------------------------------------|--|

التمرين الثالث (2.5ن): صنف الكلمات والعبارات الآتية في الجدول :

الجنوب الغربي ، أحمد زبانه ، 20 أوت 1955 ، البشير الإبراهيمي ، جبال الأوراس ، 20 أوت 1956 ، وريدة مداد ، جبال جرجرة ،
حسيبة بن بو علي ، 19 مارس 1962.

المكان	الزمان	الشخصيات
.....
.....
.....
.....

التمرين الرابع(3ن): أكمل مايلي :

التاريخ هو.....

.....

الحدث الشخصي :.....

.....

السلم الزمني :.....

.....

بالتوفيق إن شاء الله

المعلم : محمود العمري

إختبار الفصل الأول في نشاط الجغرافيا

التمرين الأول : (1.5ن)

ضع صحيح أو خاطئ أمام كل عبارة :

- مساحة القارات أكبر من مساحة المسطحات المائية
- الهضاب العليا صالحة للزراعة والرعي معاً
- المحيط الأطلسي يتصل بجميع المحيطات

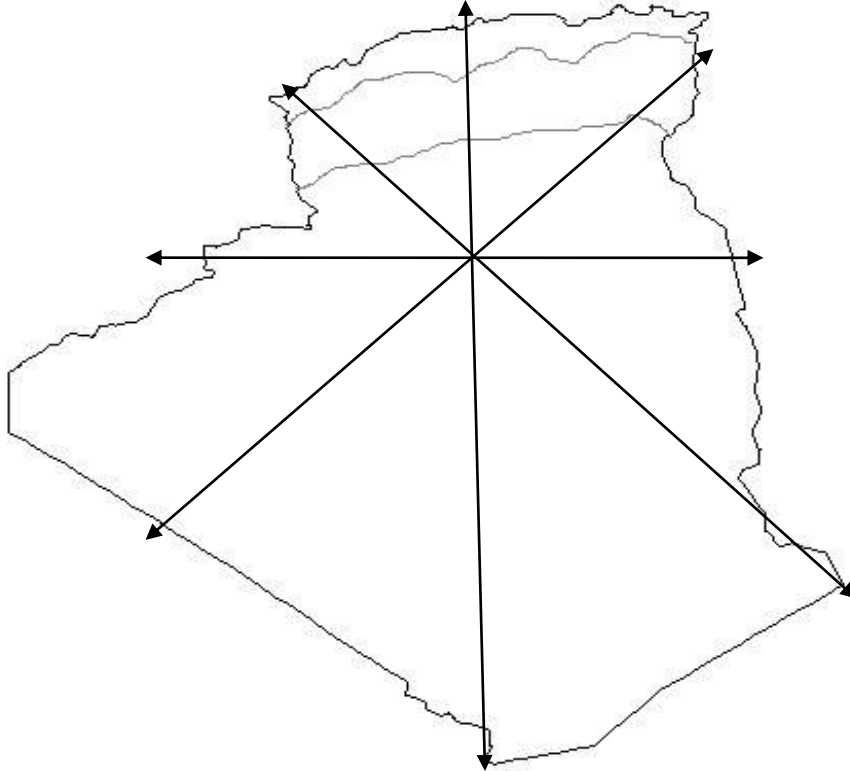
التمرين الثاني : (1.5ن)

عرّف ما يلي :

- الجبل :
- السهل :
- الهضبة :

التمرين الثالث : (2ن)

حدد على الخريطة الجهات الأساسية والجهات الفرعية واكتبها عند نهاية كل سهم :



التمرين الرابع : (2.5ن)

- أربط بسهم كل مصطلح بمعناه:

- | | |
|---------------------------------------|----------|
| * مساحة واسعة جداً من الأرض | * القارة |
| * مسطح مائي مالح | * المحيط |
| * سهل مغطى بالحصى | * البحر |
| * مساحة واسعة جداً من الماء المالح | * العرق |
| * مساحة أرضية تتشكل عليها كتبان رملية | * الرق |

التمرين الخامس : (2.5ن)

أتمم ما يأتي :

- توجد في شمال الجزائر سلسلتين جبليتين هما :

..... -

..... -

- الأودية في الجزائر نوعان :

- أودية وأودية :

- جبال الهقار البركانية توجد في

بالتوفيق إن شاء الله
المعلم : محمود العمري

